

الورقة الامتحانية تحتوى على ٣٠ سؤال في المواد الدراسية الاساسية من نوعية اختيار من متعدد.

ضع خط تحت الاجابة الصحيحة من البدائل الموجودة في كل سؤال.

أولا اللغة العربية:-

( من موضوع زيارة ومفاجأة )

( في صباح يوم الخميس توجهت مريم في صحبة والديها ، ومعها بعض الهدايا إلى المستشفى الذي وجدته غاية في الجمال والنظام )

١. معنى ( غاية ) .....
  ٢. مفرد (الطرقات) .....
  ٣. مضاد (النظام) .....
  ٤. إعراب (الخميس) .....
  ٥. إعراب ( مريم ) .....
  ٦. توجهت مريم مع ....
- ( فرح - هدف - وطن - ليس مما سبق )  
( الطريق - الطريقة - الطارق - المطرقة )  
( النظافة - القبح - الفوضى - الهدوء )  
( مضاف إليه - فاعل - خبر - جار و مجرور )  
( فاعل - خبر - مبتدأ - مفعول به )  
( أصحابها - أقاربها - والديها - أختها ) إلى المستشفى.

من نص ( كن قويا )

يا شباب العلم في الوادي الأمين أشرق الصبح فهزوا النائمين

٧. ( يا شباب ) أسلوب .....
  ٨. جمع ( الوادي ) ...
  ٩. إعراب ( أشرق ) فعل .....
  ١٠. مقرد ( النائمين ) .....
- ( نداء - استفهام - أمر - نهي )  
( الأودية - الوديان - كلاهما صحيح - ليس مما سبق )  
( ماضي - مضارع - أمر - ليس مما سبق )  
( النوم - النائم - المنام - ليس مما سبق )

ثانيا: اللغة الانجليزية

- 1-..... many glasses of lemonade did she have?  
a) How      b) What      c) When      d) Where
- 2 – Okay. I ..... take three.  
a)'ll      b) 's      c) 'm      d) 're
- 3- My best ..... is vanilla.  
a) Kind      b) colour      c) flavor      d) size
- 4- I never wear a .....  
a) nap      b) sports car      c) music      d) wig
- 5- He ..... a haircut once a month .  
a) gives      b) visits      c) gets      d) takes

### ثالثا: الدراسات الاجتماعية

١- الإفراط وسوء استخدام الموارد الطبيعية بشكل يؤدي الى نفاذها يقصد به .....

[ التلوث - الاستنزاف - انخفاض الجودة - الإنتاج النظيف ]

٢- المقصود بالقناة المائية التي يتم حفرها لتوصيل المياه من نهر النيل لري الاراضي الزراعية .....

[ القناطر - السدود - المصارف - الترعة ]

٣- أحد الأسباب الحقيقية لحملة نابليون على مصر .....

[ تأديب المماليك - حماية التجار الفرنسيين - إنشاء حكومة وطنية - إقامة مستعمرة فرنسية ]

٤- من خلفاء (محمد علي) الذي سعى لتحقيق نهضة حقيقية في مصر .....

[ إسماعيل - عباس - طوسون - سعيد ]

### رابعا: الرياضيات

(١) إذا كان الطول على الخريطة هو ٢سم ، والطول الحقيقي هو ٦كم . فإن مقياس الرسم = .....

(أ) ٣ : ١ (ب) ٣٠٠٠ : ١ (ج) ٣٠٠٠٠ : ١ (د) ٣٠٠٠٠٠ : ١

(٢) متوازي الأضلاع الذي فيه القطران متعامدان و متساويان في الطول يكون .....

(أ) معين (ب) مستطيل (ج) شبه المنحرف (د) مربع

(٣) المدى لمجموعة القيم ١٢، ٩، ٧، ٢ هو .....

(أ) ٧ (ب) ٨ (ج) ٩ (د) ١٠

(٤) ٢٤% = ..... %

(أ) ٢٤ (ب) ٥٦ (ج) ٧٦ (د) ٨٠

(٥) إذا كان  $\frac{6}{3} = \frac{2}{س}$  فإن س + ٢ = .....

(أ) ١١ (ب) ١٢ (ج) ١٨ (د) ٢٠

(٦) إذا كان حجم مكعب هو ٨سم<sup>٣</sup> فإن طول حرفه = .....

(أ) ٢ (ب) ٣ (ج) ٨ (د) ٦٤

(٧) النسبة بين محيط الدائرة إلي طول نصف قطرها = .....

(أ) ١ :  $\pi$  (ب) ٢ :  $\pi$  (ج) ١ : ٤ (د) ١ : ٣

### خامسا: العلوم

١- جسم كتلته ٢٠كجم على سطح الأرض تكون كتلته .....على سطح القمر .

أ- ٢كجم ب- ١٠جم ج- ٢٠كجم د- ٢٠٠كجم

٢- يتحكم .....في العمليات اللاإرادية.

أ- المخيخ ب- النصفان الكرويان ج- الحبل الشوكي د- النخاع المستطيل

٣- يخلط غاز .....مع غاز الأستيلين ويستخدم اللهب الناتج في قطع ولحام المعادن.

أ- الاكسجين ب- النيتروجين ج- الهيدروجين د- النيون

٤- يبقى الزئبق سائلا بين درجة حرارة .....درجة سيلزية.

أ- صفر: ١٠٠ ب- ٣٩:- ٣٥٧ ج- ٣٩: ٣٥٧ د- ٣٥: ٤٢

الدرجة الكلية

## أولاً: اللغة العربية

( من موضوع مفتاح النجاح )

(والسادس: الإصرار ، فالناجح لا يتردد في اتخاذ القرار الصائب ، وإنما يمضي قدماً في تنفيذه ....)

١. معنى ( الصائب ) .....  
٢. مضاد ( الناجح ) .....  
٣. جمع ( القرار ) .....  
٤. عرفت عائلة علي مبارك بعائلة .....  
٥. إعراب يمضي ..... فعل  
من نص ( نصائح أب ) . قال تعالى:

( وقيل يا أرض ابلعي ماءك، ويا سماء أقلعي، وغيض الماء، وقضى الأمر، واستوت على الجودي،

وقيل بعداً للقوم الظالمين )

٦. معنى ( أقلعي ) لا.....  
٧. مفرد ( الظالمين ) .....  
٨. الجودي اسم .....  
٩. الجمال في ( أرض - سماء ) .....  
١٠. إعراب ( ماء ) ....

- ( تذهبي - تمطري - تفزعي - تقلقي )  
( المظلمة - الظلم - الظالم - الظلمة )  
( مدينة - وادي - جبل - نهر )  
( تضاد - ترادف - تماثل - ليس مما سبق )  
( فاعل - مقول به - مبتدأ - خبر )



## ثانياً: اللغة انجليزية

1- My best ..... is vanilla.

- a) Kind      b) colour      c) flavor      d) size

2-What are your .....?

- a) watch      b) hours      c) clock      d) o'clock

3- I go to school by .....


- a) myself      b) yourself      c) himself      d) herself

4-How .....bread did he have ?

- a) often      b) many      c) did      d) much

5-We always ..... on the phone .

- a) talk      b) get      c) wear      d) drive



### ثالثاً: الدراسات الاجتماعية

- ١- تطلعوا الي الافراد بالسلطة لاعتقادهم بأحقيتهم في حكم مصر لتصديهم للفرنسيين في معارك عديدة .....  
[ العثمانيين - المماليك - الانجليز - المصريين ]
- ٢- امتد حكم المماليك ليشمل مصر وبلاد الشام والحجاز و .....  
[ العراق - الجزائر - اليمن - تونس ]
- ٣- أحد المشكلات التي تواجه الصناعة في مصر .....  
[ الانفتاح على العالم الخارجي - تلوث الهواء - ازدحام المدن - التهرب الجمركي ]
- ٤- يقل تركيز السكان في مصر بالمناطق القريبة من .....  
[ الوادي - الدلتا - الصحاري - المدن ]

### رابعاً: الرياضيات



- (١) ٦ ساعات :  $\frac{1}{3}$  يوم = .....
  - (٢) ..... هو متوازي أضلاع زواياه قائمة.
  - (٣) ٢٥٠ لتر = ..... سم<sup>٣</sup>
  - (٤) تلميذ يذاكر ٢٨ ساعة أسبوعياً . يكون معدل ما يذاكره في اليوم الواحد = ..... ساعات/ يوم
  - (٥) مكعب طول حرفه ٥ سم ، يكون حجمه = ..... سم<sup>٣</sup>
  - (٦) ١٠% من ٦٠٠ كيلومتر = ..... كيلومتر
  - (٧) جميع البيانات الآتية تكون وصفيّة ماعداً .....
- |                   |                 |            |              |
|-------------------|-----------------|------------|--------------|
| (د) ٣ : ٤         | (ج) ٢ : ٣       | (ب) ٣ : ٢  | (ا) ٢ : ١    |
| (د) الشكل الرباعي | (ج) المثلث      | (ب) المعين | (ا) المستطيل |
| (د) ٢٦٥٠٠         | (ج) ٢٦٥٠        | (ب) ٢٦٥    | (ا) ٢٦,٥     |
| (د) ٩             | (ج) ٧           | (ب) ٤      | (ا) ٣        |
| (د) ٢٥            | (ج) ١٢٥         | (ب) ١٠٠    | (ا) ٥        |
| (د) ٧٠            | (ج) ٦٠          | (ب) ٥٠     | (ا) ٤٠       |
| (د) الاسم         | (ج) محل الميلاد | (ب) العمر  | (ا) اللون    |



### خامساً: العلوم

- (١) تصنع مقابض أواني الطهي من .....  
أ - الألومنيوم      ب - النحاس      ج - الحديد      د - الخشب
- (٢) العامل المساعد في تحضير غاز الأكسجين في المعمل هو ....  
أ - ثاني أكسيد المنجنيز      ب - ثاني أكسيد الكربون      ج - أكسيد كالسيوم      د - هيدروكسيد كالسيوم
- (٣) يقاس وزن الجسم بالميزان .....  
أ - الحساس      ب - المعتاد      ج - الزنبركي      د - ذو كفه واحدة بمؤشر
- (٤) عدد الأعصاب الشوكية ..... عصب .  
أ - ١٢      ب - ٢٤      ج - ٣١      د - ٦٢


### أولاً: اللغة العربية



أشرق الصُّبْحُ فَهَزُّوا النَّائِمِينَ  
سَالِمَ الْبَيْتَةِ مَقْدَمًا قَوِيًّا  
[تبعد - ترقب - تشرك - تطلب].  
[نهى - أمر - نفى - استفهام].  
[الأدب - العلم - المسرح - المسابقات].  
[عاقبة - عقبة - عقاب - عقب].  
[مفعول به - مضاف إليه - مبتدأ - نعت]  
[حال - فاعل - مضاف إليه - مفعول به]  
[المال - الكاتب - العلم - السلطنة].  
[النهار - الضياء - الظلام - الضباب].  
[أمر - نداء - نهى - استفهام]  
[واتقا - قادرا - متمكنا - شجاعا]

يَا شَبَابَ الْعِلْمِ فِي الْوَادِي الْأَمِينِ  
مِصْرُ تَرْجُو مِنْكُمْ جِيلاً قَنِيًّا

- (1) معننى "ترجو و
- (2) "فهزوا": أسلوب
- (3) ينادى الشاعر فى الأبيات شباب:
- (4) مفرد "عقبات":
- (5) إعراب ( العلم ) .....
- (6) إعراب ( جيلا ) .....
- (7) بعد خروج "على مبارك" من السجن أدرك أهمية:
- (8) مضاد "الصُّبْحُ" ...
- (9) " يا شباب العلم " أسلوب
- (10) معنى " مقداما " ...



### ثانياً: اللغة الانجليزية


- 1 – I want to get a haircut . Let's go to the.....  
a) museum      b) zoo      c) barber's shop      d) post office
- 2 – She had six loaves of.....  
a) chicken      b) bread      c) coffee      d) water
- 3 – He walks to school by .....  
a) himself      b) herself      c) itself      d) myself
- 4 – How ..... do you read a newspaper ?  
a) many      b) much      c) were      d) often
- 5- Can you ..... a message ?  
a) cook      b) take      c) eat      d) drink



### ثالثا: الدراسات الاجتماعية

- 1- أحد محاصيل الحبوب الغذائية ..... [ قصب السكر - القطن - الذرة - البنجر ]
- 2- من الخصائص السلبية لسكان البيئة الصناعية ..... [ التعاون بين العاملين - التدخين داخل المصانع - احترام مواعيد العمل - الانتظام في العمل ]
- 3- أحد مهام سلطته مراقبة الوالي العثماني في مصر ..... [ الحامية العثمانية - الديوان - المماليك - الحكومة المركزية ]
- 4- خرجت الحملة الإنجليزية للإستيلاء علي مصر عام ١٨٠٧ م بقيادة ..... [ نلسون - مينو - فريزر - نابليون ]

### رابعا: الرياضيات



- (١) إذا كان الطول في الرسم ٥ سم والطول الحقيقي ١٥ متر فإن مقياس الرسم = .....  
(أ) ١ : ٣ (ب) ٣ : ١ (ج) ١ : ٣٠٠ (د) ٣٠٠٠ : ١
- (٢) سيارة تقطع مسافة ٣٦٠ كم في ٤ ساعات يكون معدل سرعة السيارة = ..... كم / ساعة  
(أ) ٨٠ (ب) ٩٠ (ج) ١٠٠ (د) ١٢٠
- (٣) جميع البيانات الآتية كمية ماعدا .....  
(أ) العمر (ب) الطول (ج) الوزن (د) الاسم
- (٤) ١ - ( ٣٠% + ٤٥% ) = .....  
(أ)  $\frac{1}{2}$  (ب) ١ (ج)  $\frac{1}{4}$  (د)  $\frac{3}{4}$
- (٥) ٣ كيلومتر = ٦٠٠ متر = .....  
(أ) ٤ : ١ (ب) ٢ : ١ (ج) ٥ : ١ (د) ١ : ٥
- (٦) حجم متوازي المستطيلات الذي أبعاده ١٠ سم ، ٣٠ سم ، ٤٠ سم تساوي ..... لتر  
(أ) ١٢ (ب) ١٢٠ (ج) ١٢٠٠ (د) ١٢٠٠٠
- (٧) الشكل الرباعي أ ب ح د الذي فيه أ ب = ح د = ح = د = ح ، وقطره متساويان في الطول ، يكون .....  
(أ) مربع (ب) متوازي أضلاع (ج) مستطيل (د) معين

### خامسا: العلوم

- (١) جسم وزنه ٦٠ نيوتن على سطح الأرض يكون وزنه ..... على سطح القمر  
أ - ١٠٠ نيوتن ب - ٦٠ نيوتن ج - ١٠ نيوتن د - ٦ نيوتن
- (٢) مفصل الكتف من المفاصل .....  
أ - الثابتة ب - واسعة الحركة ج - محدودة الحركة د - جميع ما سبق
- (٣) أعلى درجة حرارة في الترمومتر المنوي تمثل درجة .....  
أ - تجمد الماء ب - انصهار الثلج ج - تجمد الزئبق د - غليان الماء
- (٤) يستهلك غاز ..... في عمليات التنفس والاحتراق .  
أ - الهيدروجين ب - الأكسجين ج - النيتروجين د - ثاني أكسيد الكربون

